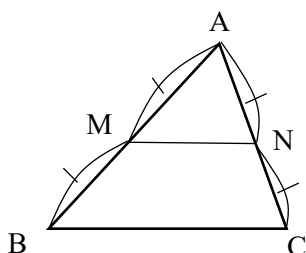


## 三角形の性質

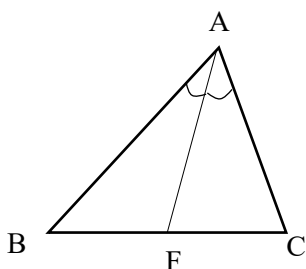
三角形の問題は毎年のように共通テストで出題されていますが、三角形に限らず図形の性質を使うことで、様々な求解問題をエレガントに解くことができます。ここでは、様々な三角形の性質を復習していきましょう。

### 1. 中点連結の定理



AB の中点を M、AC の中点を N とすると、  
MN と BC は平行  $MN \parallel BC$   
線分 MN は線分 BC の半分の長さ  $MN = 1/2 BC$

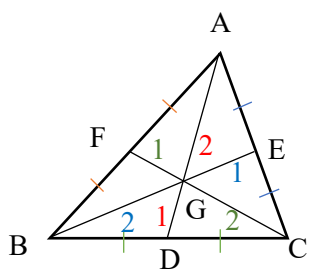
### 2. 内角の二等分線



$\angle A$  の角度二等分線を引いて、底辺との交点を F とするとき、AB と AC の比は BF と FC の比に等しい。

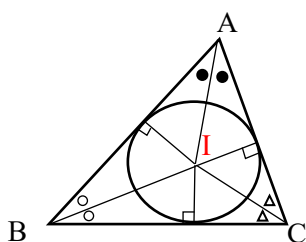
$$AB : AC = BF : FC$$

### 3. 三角形の重心



三角形の頂点と向かい合う辺の中点を結ぶ線をひく。それぞれの線の交点は1点で交わり、それを重心という。重心は線の2 : 1の内分点になる。(重心は辺二等分線と頂点の交点)

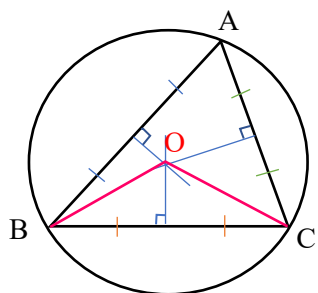
### 4. 三角形の内心



三角形の内接円の中心を内心という。内心 I と各頂点との線を考えるとき、その線は頂点の角を2等分する線となる。内接円の接点と内心 I と各辺との角度は  $90^\circ$  になる。

(内心は二等分角線の交点)

### 5. 三角形の外心



円に内接する三角形があるとき、円の中点が三角形の外心となる。このとき、各辺の二等分垂線の交点が外心となる。

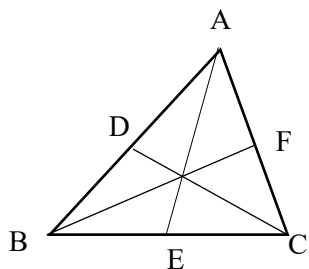
(外心は各辺の二等分垂線の交点)

### 中心角の定理

中心角は円周角の二倍である。

$$2\angle BAC = \angle BOC$$

### 6. チェバの定理

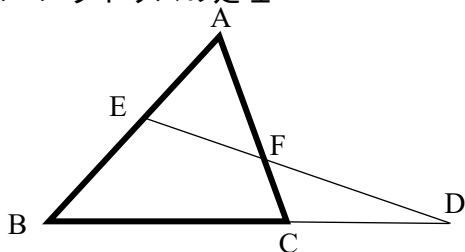


三角形 ABC において、一周を方向を決めて頂点⇒交点⇒頂点⇒交点・・・と考える。

このとき、

$$\frac{AD}{DB} \cdot \frac{BE}{EC} \cdot \frac{CF}{FA} = 1$$

### 7. メラネウスの定理

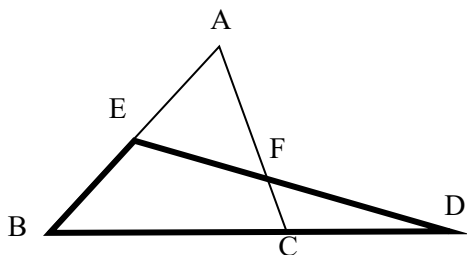


三角形 ABC と三角形 BDE が一部辺を共有して重なっているとす。注目する三角形を考えて、頂点⇒交点⇒頂点⇒交点・・・と点を移動する。

このとき、

A(頂点)→E(交点)→B(頂点)→D(交点)→C(頂点)→F(交点)→A(頂点) 終

$$\frac{AE}{EB} \cdot \frac{BD}{BC} \cdot \frac{CF}{FA} = 1$$



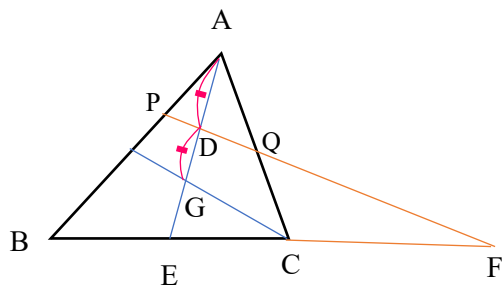
三角形 BDE を考えるなら

A(頂点)→A(交点)→B(頂点)→C(交点)→D(頂点)→F(交点)→E(頂点) 終

$$\frac{EA}{AB} \cdot \frac{BC}{CD} \cdot \frac{CF}{FE} = 1$$

練習問題 2022 年度共通テスト数 1 A 第 5 問より

三角形 ABC の重心 G に対して、次の三角形を考える。



(1) D が AG の中点とするととき  $\frac{AD}{DE}$  を求めよ。

AG:GE=2 : 1 より

$$\frac{AD}{DE} = \frac{1}{2}$$

(2)  $\frac{BP}{AP}$  と  $\frac{CQ}{QA}$  を求めよ。

$\triangle ABE$  と  $\triangle PBF$  の重なりとして、メラネウスの定理を使う。

A(頂点)→P(交点)→B(頂点)→F(交点)→E(頂点)→D(交点)→A(頂点)

$$\frac{AP}{PB} \cdot \frac{BF}{FE} \cdot \frac{ED}{DA} = 1$$

ED/DA=2 より

$$\frac{BP}{AP} = 2 \times \frac{BF}{FE}$$

$\triangle AEC$  と  $\triangle DEF$  の重なりを考える

A(頂点)→D(交点)→E(頂点)→F(交点)→C(頂点)→Q(交点)→A(頂点)

$$\frac{AD}{DE} \cdot \frac{EF}{FC} \cdot \frac{CQ}{QA} = 1$$

$$\frac{CQ}{AQ} = 2 \times \frac{FC}{EF}$$

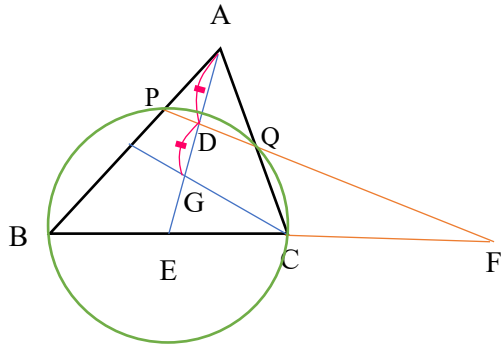
(3)  $\frac{BP}{AP} + \frac{CQ}{AQ}$  は求めよ。

$$\frac{BP}{AP} + \frac{CQ}{AQ} = 2 \times \left( \frac{BF}{FE} + \frac{FC}{EF} \right)$$

ここで、BE と EC は等距離であるが、それぞれの距離を  $a$  とする。CF との距離を  $t$  とする。

$$2 \times \left( \frac{BF}{FE} + \frac{FC}{FC} \right) = 2 \left( \frac{2a+t}{a+t} + \frac{t}{a+t} \right) = 4$$

(4)  $AB=9, BC=8, AC=6$  で  $BPCQ$  は同一円周上にある。AQ と AP の関係から、AP と AQ を求めよ。



$$AP \times AB = AQ \times AC \text{ より}$$

$$AP \times 9 = 6 \times AQ$$

$$AQ = 3/2AP$$

$$BP = 9 - AP \quad CQ = 6 - AQ \text{ より}$$

$$\frac{BP}{AP} + \frac{CQ}{AQ} = 4 \text{ に代入すると}$$

$$\frac{9-AP}{AP} + \frac{6-3/2AP}{3/2AP} = 4$$

$$AP = \frac{13}{6} \quad AQ = \frac{13}{4}$$

(5) 三角形 ABC の形状や F の位置の関係なく

$$\frac{BP}{AP} + \frac{CQ}{AQ} = 10$$

となる条件 $\frac{AD}{DG}$ を求めよ。

メラネウスの定理より

$$\frac{AP}{PB} \frac{BF}{EF} \frac{ED}{AD} = 1$$

$$\frac{BP}{AP} = \frac{BF}{EF} \frac{DE}{AD}$$

同様に、

$$\frac{AD}{DE} \frac{EF}{CF} \frac{CQ}{AQ} = 1$$

$$\frac{CQ}{AQ} = \frac{DE}{AD} \frac{CF}{EF}$$

$$\frac{BP}{AP} + \frac{CQ}{AQ} = \frac{DE}{AD} \left( \frac{BF}{EF} + \frac{CF}{EF} \right) = 2 \frac{DE}{AD} = 10$$

$$\frac{DE}{AD} = 5 \text{ より } \frac{DG}{AD} = \frac{1}{3}$$

なかなかハードな問題でしたが、時間をかけて解けばできるとおもいます。